

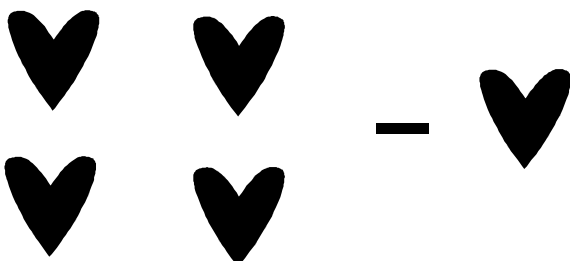
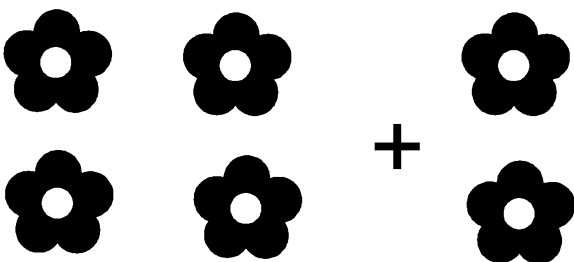


Журнал для дошкольников

В этом номере:

Примеры и задачи по математике

Задания для развития мышления

Реши примеры, нарисуй в пустых ячейках нужное количество предметов



Реши примеры на сложение

$2 + 4 = \square$

$2 + 5 = \square$

$7 + 2 = \square$

$1 + 4 = \square$

$4 + 3 = \square$

$3 + 2 = \square$

$5 + 3 = \square$

$6 + 2 = \square$

Реши примеры на вычитание

$5 - 3 = \square$

$4 - 2 = \square$

$7 - 6 = \square$

$6 - 1 = \square$

$7 - 5 = \square$

$8 - 5 = \square$

$9 - 4 = \square$

$8 - 2 = \square$

Вставь пропущенные цифры

$3 + \square = 6$

$5 - \square = 1$

$7 - \square = 3$

$6 + \square = 9$

$9 - \square = 8$

$5 + \square = 7$

$4 + \square = 6$

$8 - \square = 6$

Вставь пропущенные знаки: + или -

$4 \square 2 = 6$

$4 \square 1 = 5$

$5 \square 3 = 8$

$5 \square 1 = 4$

$6 \square 5 = 1$

$7 \square 5 = 2$

$7 \square 5 = 2$

$3 \square 4 = 7$

Какие примеры решены неправильно. Зачеркни неправильные ответы

$4 - 3 = 1$

$5 - 3 = 2$

$9 - 2 = 7$

$4 + 2 = 7$

$5 + 3 = 8$

$6 - 4 = 3$

$9 - 3 = 5$

$3 + 4 = 6$

Придумай примеры и реши их

$\square - \square = \square$

$\square + \square = \square$

$\square + \square = \square$

$\square - \square = \square$

$\square - \square = \square$

$\square + \square = \square$

$\square + \square = \square$

$\square - \square = \square$

Увеличь на 1

1	2	3	4	5	6	7	8	9	10

Уменьши на 1

1	2	3	4	5	6	7	8	9	10

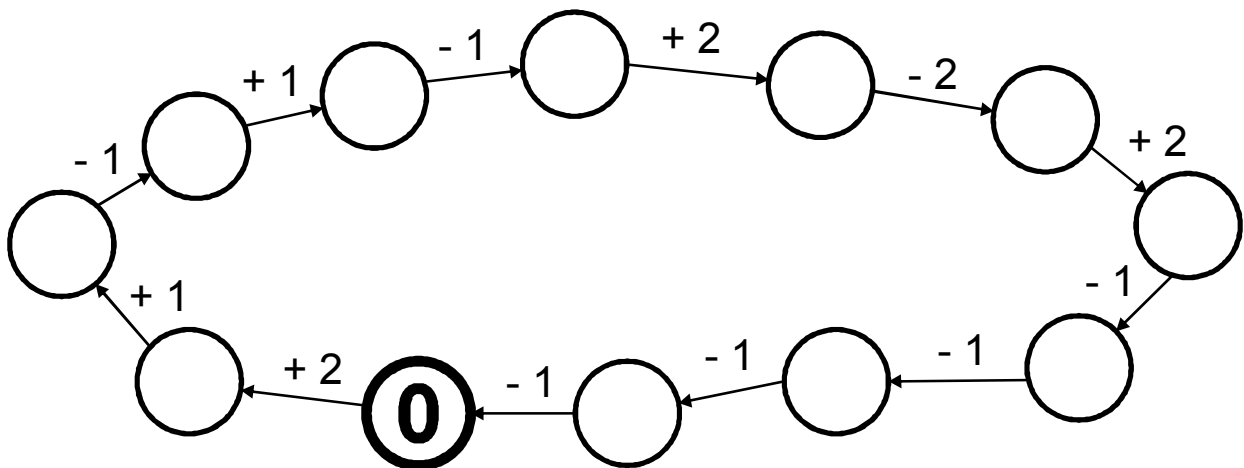
Увеличь на 2

1	2	3	4	5	6	7	8

Уменьши на 2

2	3	4	5	6	7	8	9	10

Заполни числовую цепочку



Реши примеры соедини их с правильными ответами

$9 - 8$

$7 - 2$

$5 + 3$

$9 - 6$

$6 - 4$

$8 + 1$

1 5 8 2 7 9 4 3 6

Реши примеры соедини их с правильными ответами

$5 - 4$

$7 - 1$

$9 - 1$

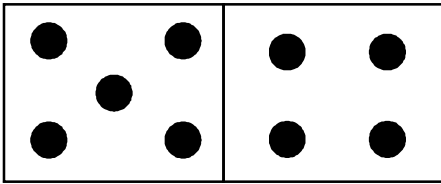
$5 + 4$

$7 - 2$

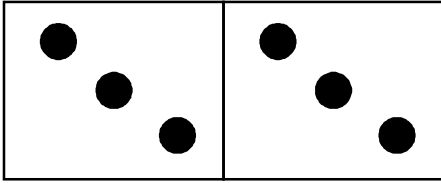
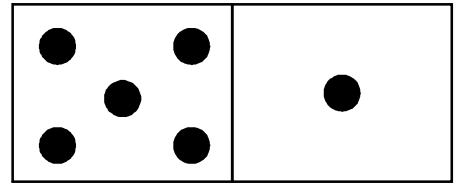
$2 + 2$

1 5 8 2 7 9 4 3 6

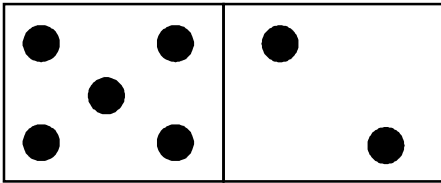
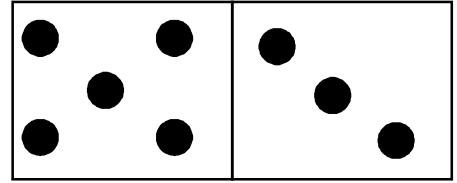
Сосчитай и соедини с соответствующим числом



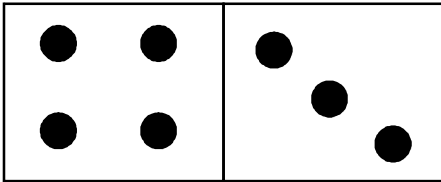
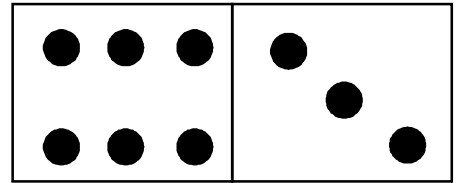
9



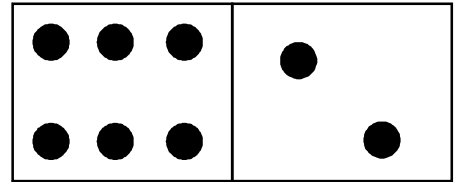
7



8



6



Реши примеры и запиши ответы

$8 - 4$

$8 - 3$

$4 + 2$

$7 + 2$

$8 - 1$

$9 - 4$

Заполни пустые клеточки, выполнив действия

- 3

4 →

7 →

6 →

9 →

5 →

8 →

+ 2

5 →

6 →

3 →

2 →

1 →

7 →

+ 3

2 →

4 →

1 →

6 →

5 →

3 →

- 2

5 →

6 →

3 →

8 →

9 →

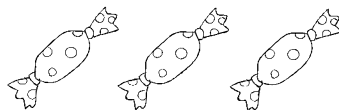
4 →

Реши задачи

Было 5 конфет



Принесли 3 конфеты



Сколько конфет стало?

--	--	--	--	--

Было — 4 батона



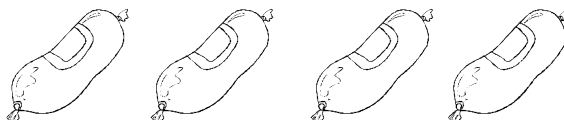
Положили еще 2 батона



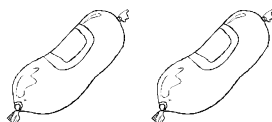
Сколько батонов стало?

--	--	--	--	--

Было 4 колбаски



Съели 2 колбаски



Сколько колбасок осталось?

--	--	--	--	--

Было 6 стаканов сока



Выпили 4 стакана сока



Сколько стаканов с соком осталось?

--	--	--	--	--

Реши задачи

Ромашек — 3



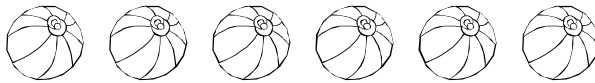
Тюльпанов на 5 больше



Сколько всего тюльпанов?

--	--	--	--	--

Мячиков — 6



Кукол — на 3 меньше



Сколько всего кукол?

--	--	--	--	--

Яблок — 5



Груш на 4 больше




Сколько всего фруктов?

--	--	--	--	--

Луковиц — 8




Моркови на 4 меньше



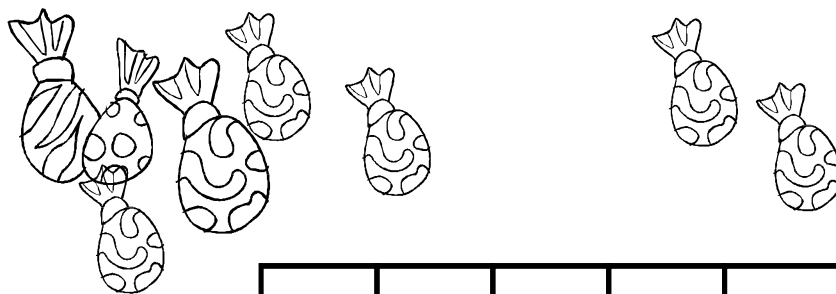
Сколько всего моркови?

--	--	--	--	--


Придумай по картинкам задачи. Запиши их решения



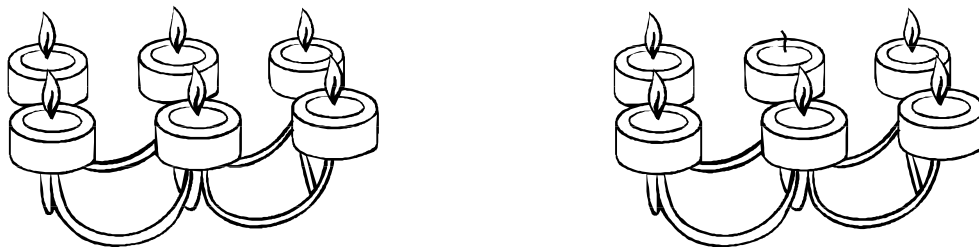
	+		=	
--	---	--	---	--



	-		=	
--	---	--	---	--



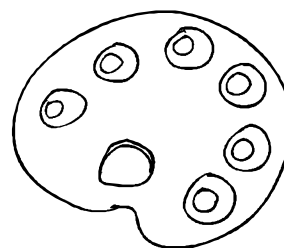
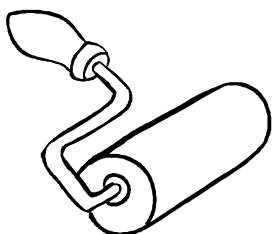

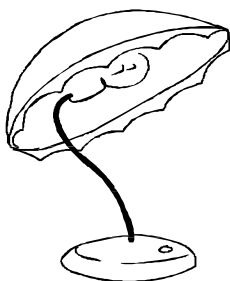

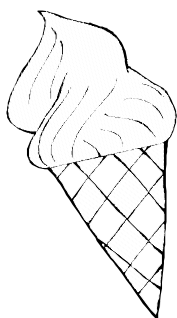

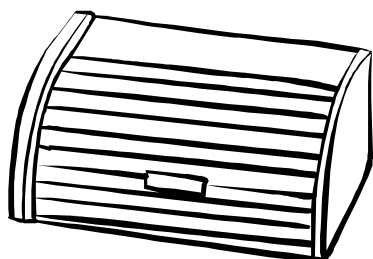
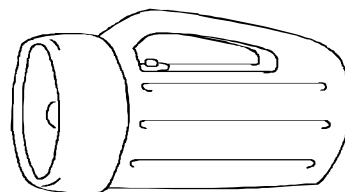


	+		=	
--	---	--	---	--


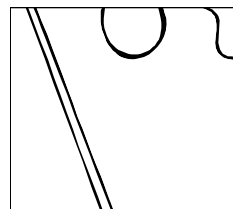
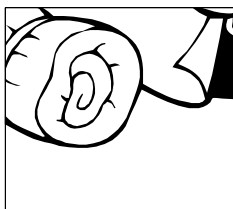



	-		=	
--	---	--	---	--








Какие предметы подходят друг другу по смыслу, соедини их линиями



Найди на рисунке фрагменты, которые показаны внизу, обведи их



Найди двух одинаковых матрешек



Найди в таблице фигуры, расположенные в верхней рамке и обведи их

